

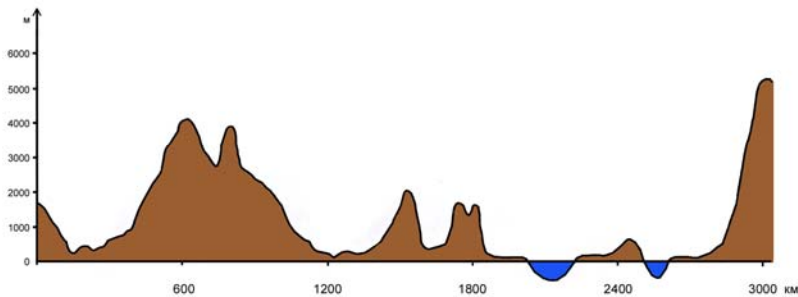
МИНИСТЕРСТВО НА ОБРАЗОВАНИЕТО, МЛАДЕЖТА И НАУКАТА  
ЦЕНТЪР ЗА КОНТРОЛ И ОЦЕНКА НА КАЧЕСТВОТО НА ОБРАЗОВАНИЕТО

№ в клас	трите имена	пол	(език, на който най-често се говори в семейството)
		М Ж Б Т Р Д	

ВЪНШНО ОЦЕНЯВАНЕ ПО КУЛТУРНО-ОБРАЗОВАТЕЛНА ОБЛАСТ  
„ОБЩЕСТВЕНИ НАУКИ, ГРАЖДАНСКО ОБРАЗОВАНИЕ И РЕЛИГИЯ” – VII клас

**ГЕОГРАФИЯ И ИКОНОМИКА**

1. Към коя група източници на географска информация се отнася илюстрацията?



- А) текстови
- Б) графични
- В) статистически
- Г) картографски

2. Кой океан мие южните брегове на Азия?

- А) Атлантически
- Б) Тихи
- В) Северен ледовит (Арктичен)
- Г) Индийски

3. Кой азиатски полуостров е означен с цифрата 1 на картосхемата?

- А) Камчатка
- Б) Индокитай
- В) Индостан
- Г) Мала Азия



4. За коя равнина в Азия се отнася характеристиката: „Разположена е в Северна Азия и е една от най-големите равнини в света. През нея протичат големи реки и са образувани много блата.”?

- А) Месопотамска
- Б) Китайска
- В) Западносибирска
- Г) Индо-Гангска

5. Кой фактор е причина за формирането на всички климатични пояси в Азия?

- А) въздушни маси
- Б) морета и океани
- В) релеф
- Г) географска ширина

6. Колко е броят на населението в континента Азия?

- А) под 1 млрд. души
- Б) между 1 и 2 млрд. души
- В) около 4 млрд. души
- Г) около 6 млрд. души

7. Кое от твърденията за стопанството на Азия НЕ е вярно?

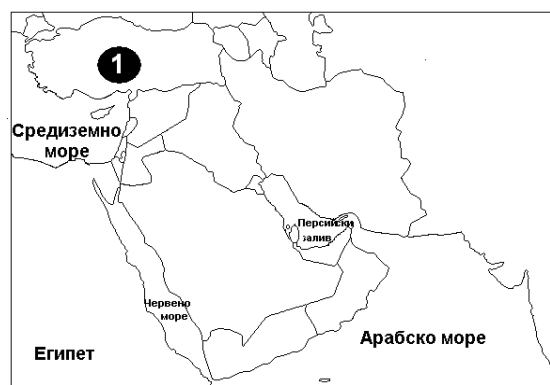
- А) Водещ отрасъл в стопанството на повечето страни е земеделието.
- Б) Електрониката е развита в страните от Източна и Югоизточна Азия.
- В) Най-силно развита в икономическо отношение е Япония.
- Г) Стопанството е силно развито във всички държави.

8. В коя двойка държава – столица в континента Азия е допусната грешка?

- А) Китай – Шанхай
- Б) Япония – Токио
- В) Индия – Делхи (Дели)
- Г) Саудитска Арабия – Ер Риад (Рияд)

9. Коя държава в Азия е означена на картосхемата с цифрата 1?

- А) Казахстан
- Б) Саудитска Арабия
- В) Турция
- Г) Иран



**10. Кое твърдение се отнася за Индийски океан?**

- А) Океанът е втори по площ.
- Б) Има най-голяма дълбочина.
- В) Намира се изцяло в Южното полукълбо.
- Г) Протича Мусонното течение.

**11. Кое твърдение се отнася за географското положение на Азия и на Австралия?**

- А) Разположени са в Северното полукълбо.
- Б) Пресичат се от Екватора.
- В) Разположени са в Западното полукълбо.
- Г) Граничат с Тихия океан.

**12. Кой географски обект е означен на картосхемата на Австралия с цифрата 1?**

- А) полуостров Кейп Йорк
- Б) Басов проток
- В) залив Карпентерия
- Г) Голям Бариерен риф



**13. Защо континентът Австралия е с много малка средна гъстота на населението?**

- А) Липсват големи градове.
- Б) Климатичните условия са благоприятни.
- В) Големи територии са заети от пустини.
- Г) Промислеността е слабо развита.

**14. Кой град в Австралийския съюз е с най-голям брой население?**

- А) Канбера
- Б) Пърт
- В) Сидни
- Г) Мелбърн

**15. Кое от посочените течения в Тихия океан е топло?**

- А) Перуанско
- Б) Курошио
- В) Калифорнийско
- Г) Курилско

**16. Кой от островите, разположени в Океания, е най-големият?**

- А) Великденски остров
- Б) Нова Каледония
- В) Фиджи
- Г) Нова Гвинея

**17. Коя от характеристиките НЕ се отнася за Океания?**

- А) Континент-държава със силно развито стопанство.
- Б) Голяма група от острови и архипелази в Тихия океан.
- В) Местно население са папуасите и маорите.
- Г) Традиционна стопанска дейност е риболовът.

**18. Коя е причината за малкото видово разнообразие на животинския свят в Антарктида?**

- А) климатичните условия
- Б) ниските и разчленени брегове
- В) голямата надморска височина
- Г) изолираността от останалите континенти

## ИСТОРИЯ И ЦИВИЛИЗАЦИЯ

1. Кой от представените паметници на материалната култура е от праисторическата епоха?



А)



Б)



В)



Г)

2. Кой бог почитали древните елини?

- А) Марс
- Б) Енлил
- В) Аполон
- Г) Яхве

**3. За владетеля на коя древна държава се отнася описанието?**

*Той е смятан за син на Бога слънце, възприеман като жив бог и посредник между боговете и народа си. Разполага с неограничена власт. След смъртта му тялото се мумифицира и полага в гробница.*


- А) Асирия
- Б) Египет
- В) Персия
- Г) Шумер

**4. Кое твърдение е вярно за евреите?**

- А) за свой родоначалник приемат Йосиф
- Б) пръв Яков започнал да почита Бог (Яхве)
- В) Моисей получил скрижалите с Десетте божи заповеди
- Г) цар Давид построил храм на Бог Яхве в Йерусалим

**5. С историята на кое древно общество се свързва показаното изображение?**

- А) елинското
- Б) римското
- В) тракийското
- Г) вавилонското



## 6. Каква информация получаваме от цитирания закон на цар Хамурапи?

„Ако човек удари плесница на човек с по-високо положение, да му бъдат нанесени 60 удара с бич.“

- А) за безусловната защита на собствеността
- Б) за социалните различия в обществото
- В) за отношението към жените и децата
- Г) за равенството между гражданите

## 7. Кои от имената са само на атински управници?

- А) Драконт, Солон, Перикъл
- Б) Хамурапи, Сервий Тулий, Перикъл
- В) Нерон, Помпей, Клистен
- Г) Ликург, Дарий, Леонид

## 8. През V в. пр.Хр. управлението в атинския полис се определя като:

- А) олигархично
- Б) демократично
- В) монархично
- Г) тиранично

## 9. Кой военен конфликт в Древния свят е показан на картата?



- А) Пелопонеска война
- Б) Гръко-персийски войни
- В) Пунически войни
- Г) Троянска война

**10. Коя е описаната личност?**

*Според елините той царувал над траките. Бил прорицател, божествен музикант, лечител. Омаял с песните си боговете на подземното царство, за да си върне починалата любима Евридика.*

- А) Орфей
- Б) Залмоксис
- В) Аполон
- Г) Дионис

**11. Кой от тракийските паметници в България е включен в Списъка на световното културно наследство на ЮНЕСКО?**

- А) гробницата край Старосел
- Б) Казанлъшката гробница
- В) Александровската гробница
- Г) гробницата край Мезек

**12. В Александрия Египетска има агора, стадион, театър, храмове на Изида и Посейдон. На коя цивилизация принадлежи градът?**

- А) елинската
- Б) египетската
- В) елинистическата
- Г) римската

**13. Кое е общото понятие, с което може да се характеризира религията на египтяните, елините и римляните?**

- А) политеизъм
- Б) монотеизъм
- В) тотемизъм
- Г) фетишизъм

**14. В коя група събитията от Римската история са подредени хронологично?**

- А) Пунически войни, начало на Римската република, Първи Триумвират
- Б) начало на Римската република, Пунически войни, Първи триумвират
- В) Първи триумвират, начало на Римската република, Пунически войни
- Г) начало на Римската република, Първи триумвират, Пунически войни

**15. Как се наричат териториите извън Апенинския полуостров, завладени и управлявани от Рим ?**

- А) колонии
- Б) номи
- В) сатрапии
- Г) провинции

**16. Коя от магистратските длъжности в древен Рим е индивидуална и извънредна?**

- А) едил
- Б) претор
- В) диктатор
- Г) консул



**17. Как се наричат хора, които имат благороден произход и разполагат с привилегии и власт?**

- А) граждани
- Б) поданици
- В) магистрати
- Г) аристократи

**18. Кога християните в Римската империя получили право свободно да изповядват религията си?**

- А) 394 г. при император Ромул Августул
- Б) 313 г. при император Диоклециан
- В) 313 г. при император Константин Велики
- Г) 394 г. при император Теодосий I

**МИНИСТЕРСТВО НА ОБРАЗОВАНИЕТО, МЛАДЕЖТА  
И НАУКАТА**

**01 юни 2010 г.**

**ТЕСТ ПО ГЕОГРАФИЯ И ИКОНОМИКА ЗА VII КЛАС**

**Ключ с верните отговори**

Всеки верен отговор се оценява с 1 точка.

<b>Въпрос №</b>	<b>Верен отговор</b>
1.	<b>Б</b>
2.	<b>Г</b>
3.	<b>В</b>
4.	<b>В</b>
5.	<b>Г</b>
6.	<b>В</b>
7.	<b>Г</b>
8.	<b>А</b>
9.	<b>В</b>
10.	<b>Г</b>
11.	<b>Г</b>
12.	<b>В</b>
13.	<b>В</b>
14.	<b>В</b>
15.	<b>Б</b>
16.	<b>Г</b>
17.	<b>А</b>
18.	<b>А</b>

**Ключ на верните отговори – VII клас**  
***ИСТОРИЯ И ЦИВИЛИЗАЦИЯ***

<b>ВЪПРОС №</b>	<b>ОТГОВОР</b>
<b>1.</b>	<b>Б</b>
<b>2.</b>	<b>В</b>
<b>3.</b>	<b>Б</b>
<b>4.</b>	<b>В</b>
<b>5.</b>	<b>Г</b>
<b>6.</b>	<b>Б</b>
<b>7.</b>	<b>А</b>
<b>8.</b>	<b>Б</b>
<b>9.</b>	<b>Б</b>
<b>10.</b>	<b>А</b>
<b>11.</b>	<b>Б</b>
<b>12.</b>	<b>В</b>
<b>13.</b>	<b>А</b>
<b>14.</b>	<b>Б</b>
<b>15.</b>	<b>Г</b>
<b>16.</b>	<b>В</b>
<b>17.</b>	<b>Г</b>
<b>18.</b>	<b>В</b>